

## Personen und Gegebenheiten merken, 1. Teil

Multicheck Beauty



Merken Sie sich die Personen.  
Später werden wir Ihnen Fragen  
über diese Personen stellen.



Beispiel

## Personen und Gegebenheiten merken, 2. Teil



Merken Sie sich folgenden Text:

Beim Modellieren wird mit Hilfe bestimmter Tricks das Gesicht optisch verändert. Dies ist eine der, selbst für Profis, schwierigsten Tätigkeiten beim MakeUp.



**Beispiel**

## Deutsch, 1. Teil

Multicheck Beauty



Ordnen Sie die Wörter zu. Geben Sie die entsprechende Nummer ein!

Mit Einfühlungsvermögen, handwerklichem und gestalterischem --1-- sowie fundiertem Fachwissen erfüllen Coiffeusen und Coiffeure die verschiedensten --2-- von Menschen jeden Typs.

Frisurenwünsche

Können



Beispiel

## Deutsch, 1. Teil

Multicheck Beauty



Ordnen Sie die Wörter zu. Geben Sie die entsprechende Nummer ein!

Mit Einfühlungsvermögen, handwerklichem und gestalterischem --1-- sowie fundiertem Fachwissen erfüllen Coiffeusen und Coiffeure die verschiedensten --2-- von Menschen jeden Typs.

Frisurenwünsche

Können



Beispiel

Lösung

## Deutsch, 2. Teil

Multicheck Beauty



Klicken Sie auf den falschen  
Buchstaben!

H a m m x r



Beispiel

## Deutsch, 2. Teil

Multicheck Beauty



Klicken Sie auf den falschen Buchstaben!

H a m m x r



Beispiel

Lösung



Zu einem Text finden Sie jeweils drei Aussagen, von denen nur eine zutrifft. Markieren Sie die zutreffende Aussage.

Ein Baugerüst muss den sicherheitstechnischen Anforderungen genügen und mit den entsprechenden Vorrichtungen (Leitern, Geländern etc.) ausgerüstet sein. Grössere Gerüste werden heute fast durchwegs aus Metallrohren, Trägern und Stützen mit Netzabdeckungen etc. erstellt.

- Die Netze schützen die Bauarbeiter vor lästigen Zuschauern.
- Es gibt Vorschriften für das Aufstellen von Baugerüsten.
- Geländer müssen nicht unbedingt installiert werden.



Beispiel



Zu einem Text finden Sie jeweils drei Aussagen, von denen nur eine zutrifft. Markieren Sie die zutreffende Aussage.

Ein Baugerüst muss den sicherheitstechnischen Anforderungen genügen und mit den entsprechenden Vorrichtungen (Leitern, Geländern etc.) ausgerüstet sein. Grössere Gerüste werden heute fast durchwegs aus Metallrohren, Trägern und Stützen mit Netzabdeckungen etc. erstellt.

- Die Netze schützen die Bauarbeiter vor lästigen Zuschauern.
- Es gibt Vorschriften für das Aufstellen von Baugerüsten.
- Geländer müssen nicht unbedingt installiert werden.



Beispiel

Lösung



Lösen Sie die Aufgabe!

Das Make-up korrigiert folgendes Augenmerkmal.



- vorstehend
- tiefliegend
- engstehend



Beispiel



Lösen Sie die Aufgabe!

Das Make-up korrigiert folgendes Augenmerkmal.



- vorstehend
- tiefliegend
- engstehend



Beispiel

Lösung

## Konzentration, 1. Teil

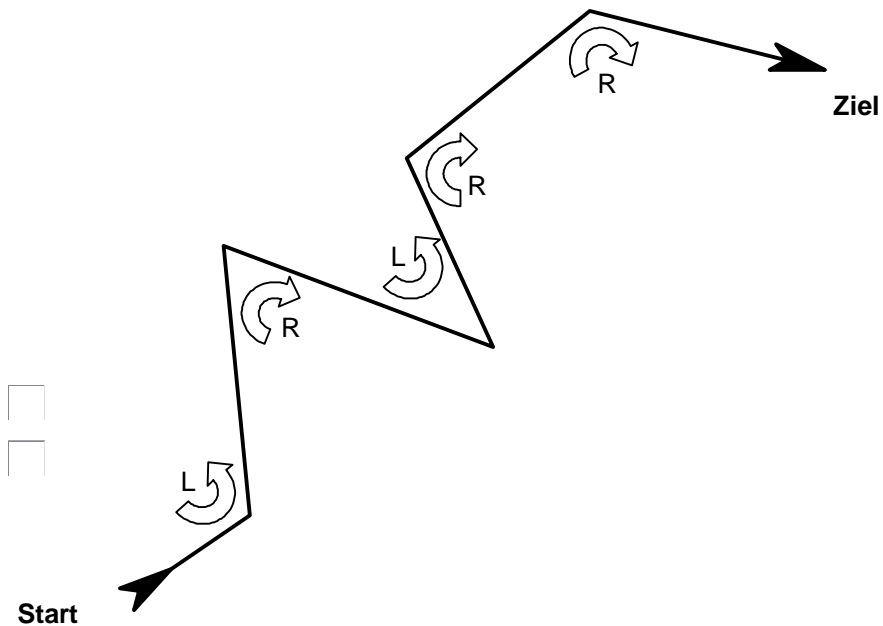
Multicheck Beauty



In der Zeichnung finden Sie einen Weg vom Start zum Ziel.  
Auf diesem Weg erfolgen mehrere Richtungsänderungen.  
Manchmal nach Links [L] im 'Gegenuhrzeigersinn', manchmal nach Rechts [R] im 'Uhrzeigersinn'. Zählen Sie die Anzahl Richtungswechsel nach Links [L] respektive nach Rechts [R].

Anzahl Richtungswechsel nach Links

Anzahl Richtungswechsel nach Rechts



Beispiel

## Konzentration, 1. Teil

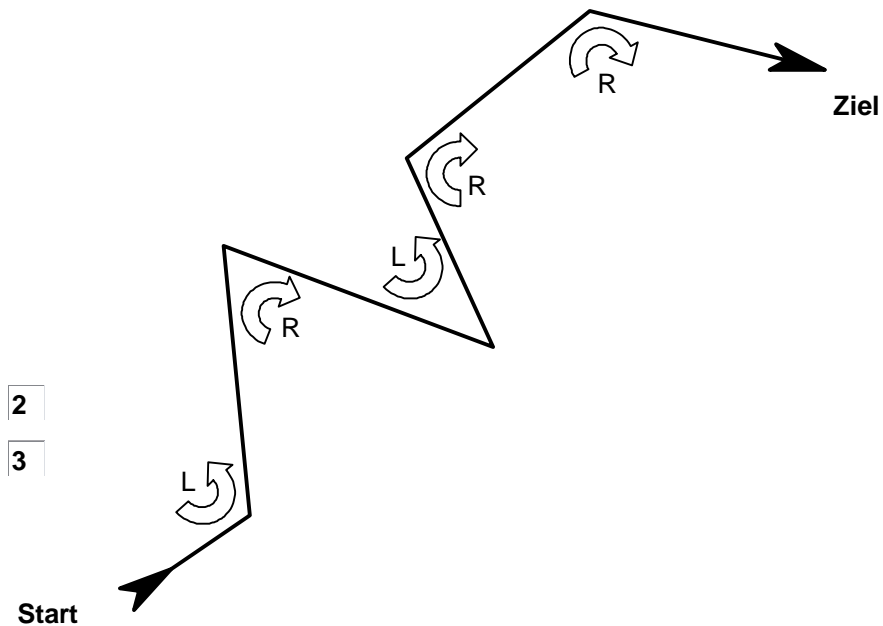
Multicheck Beauty



In der Zeichnung finden Sie einen Weg vom Start zum Ziel. Auf diesem Weg erfolgen mehrere Richtungsänderungen. Manchmal nach Links [L] im 'Gegenuhrzeigersinn', manchmal nach Rechts [R] im 'Uhrzeigersinn'. Zählen Sie die Anzahl Richtungswechsel nach Links [L] respektive nach Rechts [R].

Anzahl Richtungswechsel nach Links

Anzahl Richtungswechsel nach Rechts



Beispiel

Lösung

## Konzentration, 2. Teil

Multicheck Beauty



Sind die beiden Reihen gleich?

Reihe 1	Reihe 2		
148394053	149394053	<input type="checkbox"/> Ja	<input type="checkbox"/> Nein
645394053	645394053	<input type="checkbox"/> Ja	<input type="checkbox"/> Nein



Beispiel

## Konzentration, 2. Teil

Multicheck Beauty



Sind die beiden Reihen gleich?

Reihe 1	Reihe 2		
148394053	149394053	<input type="checkbox"/> Ja	<input checked="" type="checkbox"/> Nein
645394053	645394053	<input checked="" type="checkbox"/> Ja	<input type="checkbox"/> Nein



Beispiel

Lösung

# Problemlöseverhalten

Multicheck Beauty



Welches der Bilder muss zu unterst angeordnet werden, welches in der Mitte etc. damit das Bild 'Ziel' entsteht?  
Die untenstehende bildliche Herleitung ist bei den Aufgaben selbstverständlich nicht vorhanden.


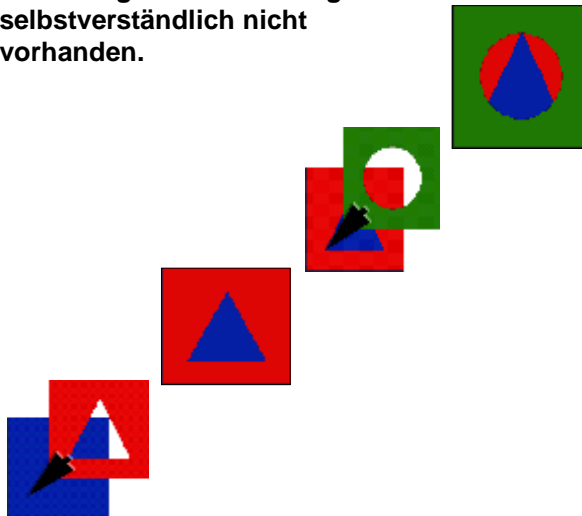


Diagram showing the arrangement of three images (A, B, C) to form the target image:

- unterstes Bild (bottom image) with checkboxes A, B, C
- mittleres Bild (middle image) with checkboxes A, B, C
- oberstes Bild (top image) with checkboxes A, B, C



Beispiel

# Problemlöseverhalten

Multicheck Beauty



Welches der Bilder muss zu unterst angeordnet werden, welches in der Mitte etc. damit das Bild 'Ziel' entsteht?  
Die untenstehende bildliche Herleitung ist bei den Aufgaben selbstverständlich nicht vorhanden.


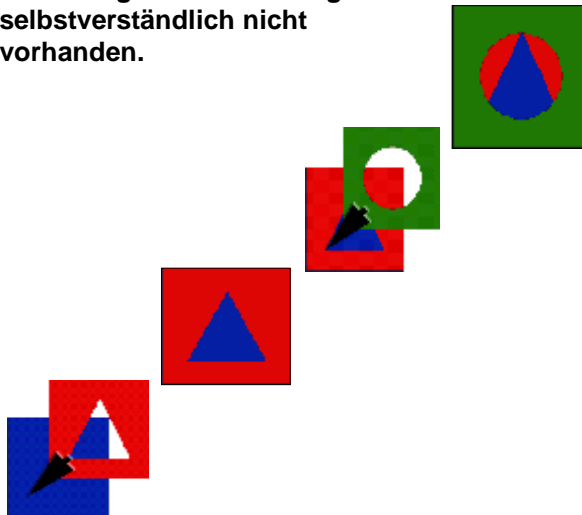


Diagram showing the arrangement of images A, B, and C to form the target image. Three gray boxes represent the positions: 'unterstes Bild' (bottom), 'mittleres Bild' (middle), and 'oberstes Bild' (top).

unterstes Bild:  A  B  C

mittleres Bild:  A  B  C

oberstes Bild:  A  B  C



Beispiel

Lösung

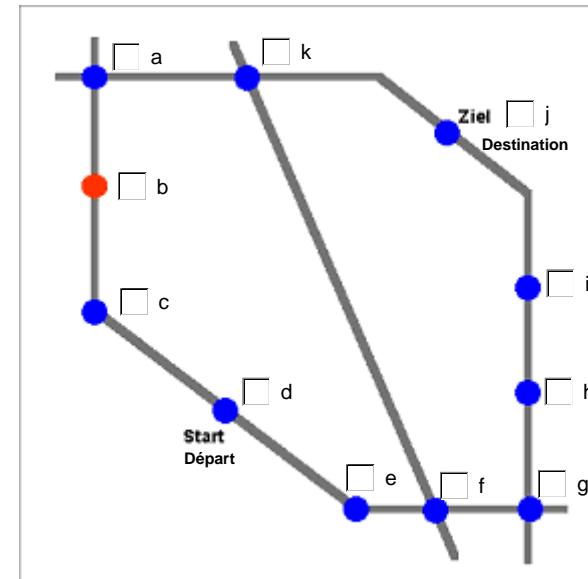
## Problemlöseverhalten, 2. Teil

Multicheck Beauty



### Raster

Anleitung: Sie sehen ein Netz von Bahnlinien. Sie wollen vom Start zum Ziel reisen. Der Preis wird berechnet nach der Anzahl durchfahrener Stationen (inkl. Start und Ziel), wobei jeder Kreuzungspunkt von zwei oder mehr Linien den doppelten Preis kostet. Auch die mit oranger Farbe gekennzeichneten Stationen kosten den doppelten Preis. Wählen Sie die Linie aus, die am billigsten ist.



Beispiel

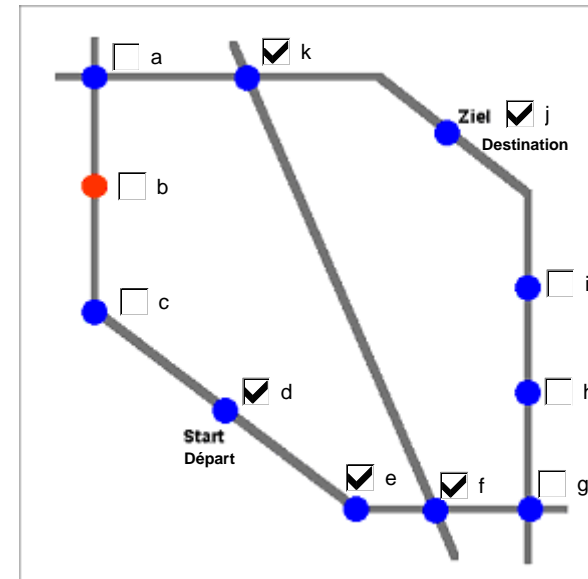
## Problemlöseverhalten, 2. Teil

Multicheck Beauty



### Raster

Anleitung: Sie sehen ein Netz von Bahnlinien. Sie wollen vom Start zum Ziel reisen. Der Preis wird berechnet nach der Anzahl durchfahrener Stationen (inkl. Start und Ziel), wobei jeder Kreuzungspunkt von zwei oder mehr Linien den doppelten Preis kostet. Auch die mit oranger Farbe gekennzeichneten Stationen kosten den doppelten Preis. Wählen Sie die Linie aus, die am billigsten ist.



Beispiel

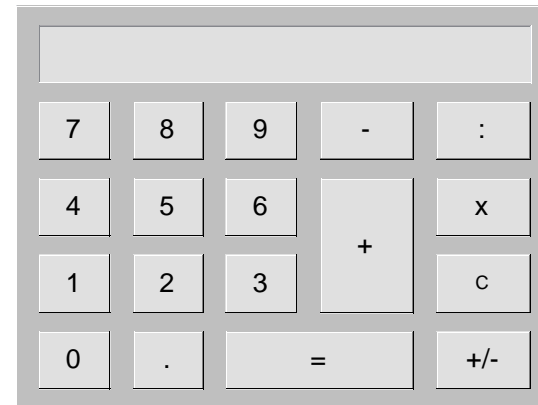
Lösung

## Rechnen, 1. Teil



Sie geben einem Kunden 5%  
Rabatt auf den Preis von CHF 500.-

Berechnen Sie den neuen Preis. CHF



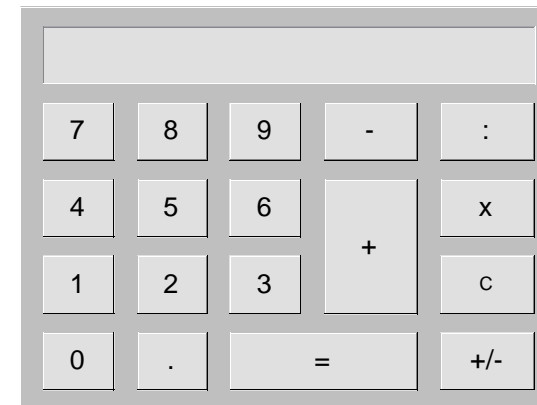
**Beispiel**

## Rechnen, 1. Teil



Sie geben einem Kunden 5%  
Rabatt auf den Preis von CHF 500.-

Berechnen Sie den neuen Preis. CHF



Beispiel

Lösung

## Rechnen, 2. Teil

Multicheck Beauty



Rechnen Sie aus!

$$5 \text{ mal CHF } 100.- + 3 \text{ mal CHF } 20.- + 20 \text{ mal CHF } 0.05 = \text{ CHF }$$



**Beispiel**

## Rechnen, 2. Teil

Multicheck Beauty



Rechnen Sie aus!

$$5 \text{ mal CHF } 100.- + 3 \text{ mal CHF } 20.- + 20 \text{ mal CHF } 0.05 = \text{ CHF } \boxed{561}$$



Beispiel

Lösung

# Sinn für Farben und Formen

Multicheck Beauty



Welches Bild entspricht der 3-D Darstellung?

A diagram illustrating a 3D scene and its corresponding 2D projections. The 3D scene, shown in a red-bordered box, features a yellow sphere and a blue cone on a gray and white checkered floor. A red arrow labeled "Blickrichtung" (view direction) points towards the scene. Below the 3D scene are three 2D projection boxes, each with a checkbox to its left. The first box shows a yellow dot and a blue dot on a checkered background. The second box shows a blue dot and a yellow dot. The third box shows a blue dot and a yellow dot in a different relative position. A red arrow points from the 3D scene towards the first 2D box.






Beispiel

# Sinn für Farben und Formen


Multicheck Beauty



Welches Bild entspricht der 3-D Darstellung?



Blick-  
richtung



Beispiel

Lösung

## Merkfähigkeit, 1. Teil

Multicheck Beauty



Zu Beginn der Abklärung wurden Ihnen mehrere Fotografien von Personen gezeigt.  
Nun zeigen wir Ihnen wiederum Personen.  
Waren diese Personen vorhanden? Beantworten Sie alle Fragen mit 'Ja' oder 'Nein'.



Ja  Nein



Ja  Nein



Ja  Nein



Ja  Nein



Ja  Nein



Beispiel

Lösung

## Personen und Gegebenheiten merken, 2. Teil

Multicheck Beauty



Beantworten Sie nun folgende  
Fragen zum Text, den Sie gelernt  
haben.

- Das Modellieren ist selbst für Profis sehr schwierig.
- Das Modellieren ist für Profis einfach.



Beispiel

Lösung